

ISSN - 1983 - 0157

Matemática

5º ano do Ensino Fundamental

Boletim Pedagógico da Escola

COLEÇÃO SIMAVE

PROEB 2010 VOL.3



Coleção SIMAVE

BOLETIM PEDAGÓGICO DA ESCOLA

PROEB

PROGRAMA DE AVALIAÇÃO DA REDE PÚBLICA DE EDUCAÇÃO BÁSICA

Matemática

5º ano do Ensino Fundamental

VOLUME 3

Ficha Catalográfica

MINAS GERAIS. Secretaria de Estado de Educação. Boletim Pedagógico da Escola.
SIMAVE/PROEB – 2010 / Universidade Federal de Juiz de Fora, Faculdade de Educação, CAEd.

v. 3 (jan/dez. 2010), Juiz de Fora, 2010 – Anual

AMORIM, Glauker Menezes de; CASTRO, Mariângela de Assunção de; MORAES, Mara Sueli Simões;
MORAES, Tatiane Gonçalves de; OLIVEIRA, Lina Kátia Mesquita (coord.); PEREIRA, Bruno Rinco Dutra;
PIROLA, Nelson Antônio; SALAZAR, Denise Mansoldo; SILVA, Amarildo Melchíades da.

Conteúdo: 5º ano do Ensino Fundamental - Matemática

ISSN 1983-0157

1. Ensino Fundamental - Avaliação - Periódicos

CDU 373.3+373.5:371.26(05)



Governador de Minas Gerais
Antonio Augusto Junho Anastasia

Secretária de Estado de Educação
Ana Lúcia Almeida Gazzola

Secretária Adjunta de Estado de Educação
Maria Céres Pimenta Spínola Castro

Chefe de Gabinete
Maria Sueli de Oliveira Pires

Subsecretária de Informações e Tecnologias Educacionais
Sônia Andère Cruz

Superintendência de Avaliação Educacional
Maria Inez Barroso Simões



Superintendência de Avaliação Educacional

Ana Silvéria Nascimento Bicalho
Carmelita Antônia Pereira
Gislaine Aparecida da Conceição
Maria Guadalupe Cordeiro
Marineide Costa de Almeida de Toledo
Rosângela Leonardo da Silva
Suely da Piedade Alves



Centro de Políticas Públicas e Avaliação da Educação da Universidade Federal de Juiz de Fora

Coordenação Geral

Lina Kátia Mesquita Oliveira

Coordenação Técnica

Manuel Fernando Palácios da Cunha e Melo

Coordenação de Pesquisa

Tufi Machado Soares

Coordenação de Análise e Divulgação de Resultados

Anderson Córdova Pena

Coordenação de Instrumentos de Avaliação

Verônica Mendes Vieira

Coordenação de Medidas Estatísticas

Wellington Silva

Coordenação de Produção Visual

Hamilton Ferreira

Equipe de Medidas Estatísticas

Ailton Fonseca Galvão
Clayton Valle
Priscila Gregório Bernardo
Roberta de Oliveira Fávero
Roberta Fernandes Vieira

Equipe de Análise e Divulgação de Resultados

Alexandre Luiz de Oliveira Serpa
Andreza Cristina Moreira da Silva Basso
Astrid Sarmento Cosac
Camila Fonseca de Oliveira
Carolina de Lima Gouvêa
Carolina Ferreira Rodrigues
Daniel Aguiar de Leighton Brooke
Daniel Araújo Vignoli
João Paulo Costa Vasconcelos
Juliana Frizzoni Candian
Júlio Sérgio da Silva Jr.
Leonardo Augusto Campos
Luís Antônio Fajardo Pontes
Michelle Sobreiro Pires
Rodrigo Coutinho Corrêa
Rogério Amorim Gomes
Tatiana Casali Ribeiro
Wagner Silveira Rezende

Equipe de Instrumentos de Avaliação

Cristiano Lopes da Silva
Janine Reis Ferreira
Mayra da Silva Moreira

Equipe de Língua Portuguesa

Hilda Aparecida Linhares da Silva Micarello (Coord.)
Josiane Toledo Ferreira Silva (Coord.)
Adriana de Lourdes Ferreira de Andrade
Ana Letícia Duin Tavares
Déa Lucia Campos Pernambuco
Edmon Neto de Oliveira
Maika Som Machado
Rachel Garcia Finamore

Equipe de Matemática

Bruno Rinco Dutra Pereira
Denise Mansoldo Salazar
Mariângela de Assumpção de Castro
Pablo Rafael de Oliveira Carlos
Tatiane Gonçalves de Moraes (Coord.)

Equipe de Editoração

Bruno Carnaúba
Clarissa Aguiar
Eduardo Castro
Henrique Bedetti
Marcela Zagueto
Raul Furiatti Moreira
Vinícius Peixoto

Aos Educadores do Estado de Minas Gerais

Caro(a) Educador(a),

Estamos encaminhando-lhe os resultados das análises realizadas, em 2010, pelo Sistema Mineiro de Avaliação da Educação Pública – SIMAVE. A opção pela apresentação desses resultados por meio de série histórica objetiva o uso pedagógico dos dados, permitindo análises comparativas e favorecendo o estabelecimento de metas anuais que contribuam para a melhoria do processo de aprendizagem em sala de aula.

A análise comparativa dos resultados indica que há uma tendência histórica de evolução no desempenho dos alunos mineiros. Esses bons resultados são fruto dos múltiplos esforços realizados pelos agentes educacionais, familiares, alunos e, principalmente, pelo trabalho cotidiano de milhares de professores e gestores escolares. No entanto, é necessário aprimorar, ainda mais, e alçar novos patamares de qualidade.

O papel das escolas nesse processo de aprimoramento contínuo é de fundamental importância. Espera-se que professores e gestores definam, conjuntamente, estratégias pedagógicas que ampliem os níveis de aprendizagem dos alunos, considerando, sempre, que as metas estabelecidas sejam compatíveis com a faixa etária e o ano de escolarização dos alunos.

Este boletim pedagógico contém informações sobre a proficiência média da escola, tendo como foco a análise pedagógica e qualitativa dos resultados apresentados pelos alunos na área de conhecimento avaliada. Destaca-se aí a interpretação da Escala de Proficiência, que apresenta as competências e habilidades desenvolvidas pelos alunos situados em cada nível de proficiência e padrões de desempenho.

Esperamos que toda a equipe pedagógica da escola sinta-se motivada para o estudo dos resultados trazidos pelas publicações do SIMAVE em sua edição 2010, firmando, mais uma vez, o compromisso de todos os educadores com sua qualificação continuada e com a formação de cidadãos sintonizados com o mundo contemporâneo.

Desejo a você, educador(a), um bom trabalho!

Ana Lúcia Almeida Gazzola

Secretária de Educação de Estado de Minas Gerais

Sumário

Continuando o nosso assunto...	9
Seção 1. Os Resultados de sua Escola	10
Seção 2. A Escala de Proficiência em Matemática	13
Seção 3. Os Domínios e Competências da Escala de Proficiência	17
Seção 4. Os Padrões de Desempenho Estudantil para Matemática	25
Seção 5. Os Intervalos da Escala de Proficiência	27
Seção 6. Atividades para Apropriação dos Resultados	45
Agora é com você	50

Continuando o nosso assunto...

Melhorar o desempenho escolar dos alunos de Minas Gerais. Essa é uma questão que tem norteado os esforços de gestores e educadores no planejamento de políticas públicas e de práticas pedagógicas capazes de garantir o alcance de metas de acesso e permanência a uma escola de qualidade.

Nesse processo, o PROEB se destaca como uma estratégia privilegiada para obtenção de informações significativas sobre a realidade educacional das escolas de nosso estado. O diagnóstico oferecido pelo PROEB reveste-se, pois, de especial importância política e pedagógica na medida em que apresenta o desempenho dos alunos no espectro de habilidades e competências essenciais para o desenvolvimento de uma educação que faça a diferença.

Neste Volume 3 da Coleção SIMAVE 2010, composto de 6 seções, você conhecerá os resultados de Matemática do 5º ano do Ensino Fundamental.

Na primeira seção são apresentados os resultados de sua escola no PROEB 2010; os quais ganham significado pedagógico com a Escala de Proficiência, apresentada logo em seguida, na seção 2. A interpretação da Escala, pelos Domínios e Competências, Padrões de Desempenho e Níveis de Proficiência, é detalhada nas seções posteriores.

Assim, na seção 3, Domínios e Competências da Escala, são apresentadas as habilidades presentes em cada uma das competências da escala, com ênfase em seus diferentes graus de complexidade representados pela gradação de cores.

A seção 4, Padrões de Desempenho, complementa a interpretação dos domínios e competências da escala, explicitando as principais habilidades presentes em cada padrão de desempenho estudantil definido pela Secretaria de Estado de Educação de Minas Gerais.

Na seção 5, é apresentado, para cada nível, o detalhamento das habilidades juntamente com alguns itens representativos das tarefas que os alunos que se encontram naquele nível são capazes de fazer.

Ao final, na última seção, você encontrará atividades práticas planejadas com o objetivo de facilitar a interpretação das informações apresentadas. É muito importante que você, juntamente com a equipe pedagógica de sua escola, realize as atividades e dinâmicas propostas.

Todos estão convidados a analisar e interpretar as informações deste Boletim para que, juntos, cumpramos a meta de elevar os índices educacionais de nossa rede de ensino, contribuindo para uma educação mais justa e de qualidade.

Seção 1

Os resultados de sua escola

Os resultados de sua escola no PROEB 2010 são apresentados a seguir, considerando-se quatro aspectos.

- 1. Proficiência média:** Apresenta a proficiência média de sua escola. Como na Prova Brasil 2009, os resultados do SIMAVE/PROEB 2010 são produzidos na escala do Sistema Nacional de Avaliação da Educação Básica – SAEB. Você pode comparar a proficiência da sua escola com as médias do Brasil, do estado, da sua SRE e do seu município para as diferentes redes. O objetivo é proporcionar uma visão das proficiências médias e posicionar sua escola em relação a essas médias.
- 2. Participação:** Informa o número estimado de alunos para a realização do teste e quantos, efetivamente, participaram da avaliação no estado, na sua SRE, no seu município e na sua escola.
- 3. Evolução do percentual de alunos por padrão de desempenho:** Permite que você acompanhe a evolução do percentual de alunos nos padrões de desempenho das avaliações realizadas pelo PROEB em suas últimas edições.
- 4. Percentual de alunos por nível de proficiência e padrão de desempenho:** Apresenta a distribuição dos alunos ao longo dos intervalos de proficiência no estado, na SRE e na sua escola. Esses gráficos permitem que você identifique o percentual de alunos para cada nível da escala e padrões de desempenho. Isso será fundamental para planejar intervenções pedagógicas voltadas à melhoria do processo de ensino e promoção da equidade escolar.

Nas próximas páginas, você terá acesso aos resultados do PROEB; analise-os com muita atenção. Atente para o percentual de alunos que se encontra em cada um dos domínios e competências da escala e dos padrões de desempenho acadêmico. Esses dados serão fundamentais para o planejamento coletivo de sua escola.



Seção 2

A Escala de Proficiência em Matemática

Nas avaliações em larga escala da educação básica realizadas no Brasil, os resultados dos alunos em Matemática são dispostos em uma escala de proficiência definida pelo Sistema Nacional de Avaliação da Educação Básica, o SAEB. A utilização da escala do SAEB permite uma série de vantagens; uma das mais importantes para a escola é, sem dúvida, a possibilidade de interpretação pedagógica dos resultados.

Essa interpretação é possível porque as escalas de proficiência oferecem a possibilidade de ordenar, em um *continuum*, o desempenho dos alunos avaliados, do nível mais baixo ao mais alto, e de descrever as habilidades distintivas de cada um de seus intervalos. Ou seja, os alunos situados em um nível mais alto da escala revelam dominar não só as habilidades do nível em que se encontram, mas também aquelas dos níveis anteriores, o que permite dizer, por exemplo, que alunos do 3º ano do Ensino Médio devem, necessariamente, revelar habilidades em Língua Portuguesa mais complexas do que os do 5º ano do Ensino Fundamental, estando, portanto, localizados em pontos mais altos da escala.

O PROEB utiliza a mesma Escala de Proficiência em Matemática do SAEB, o que torna possível posicionar, em uma mesma métrica e de forma bem distribuída, os resultados do desempenho escolar dos alunos de Minas Gerais do 5º e 9º anos do Ensino Fundamental e do 3º ano do Ensino Médio, situando a unidade avaliada, seja o aluno, a escola, o município, a SRE ou o estado, em função de seu desempenho. A utilização dessa escala possibilita, ainda, a comparação dos resultados obtidos entre a avaliação do PROEB e outras avaliações em larga escala; entre as diferentes edições do PROEB e entre as diversas etapas de escolaridades avaliadas.

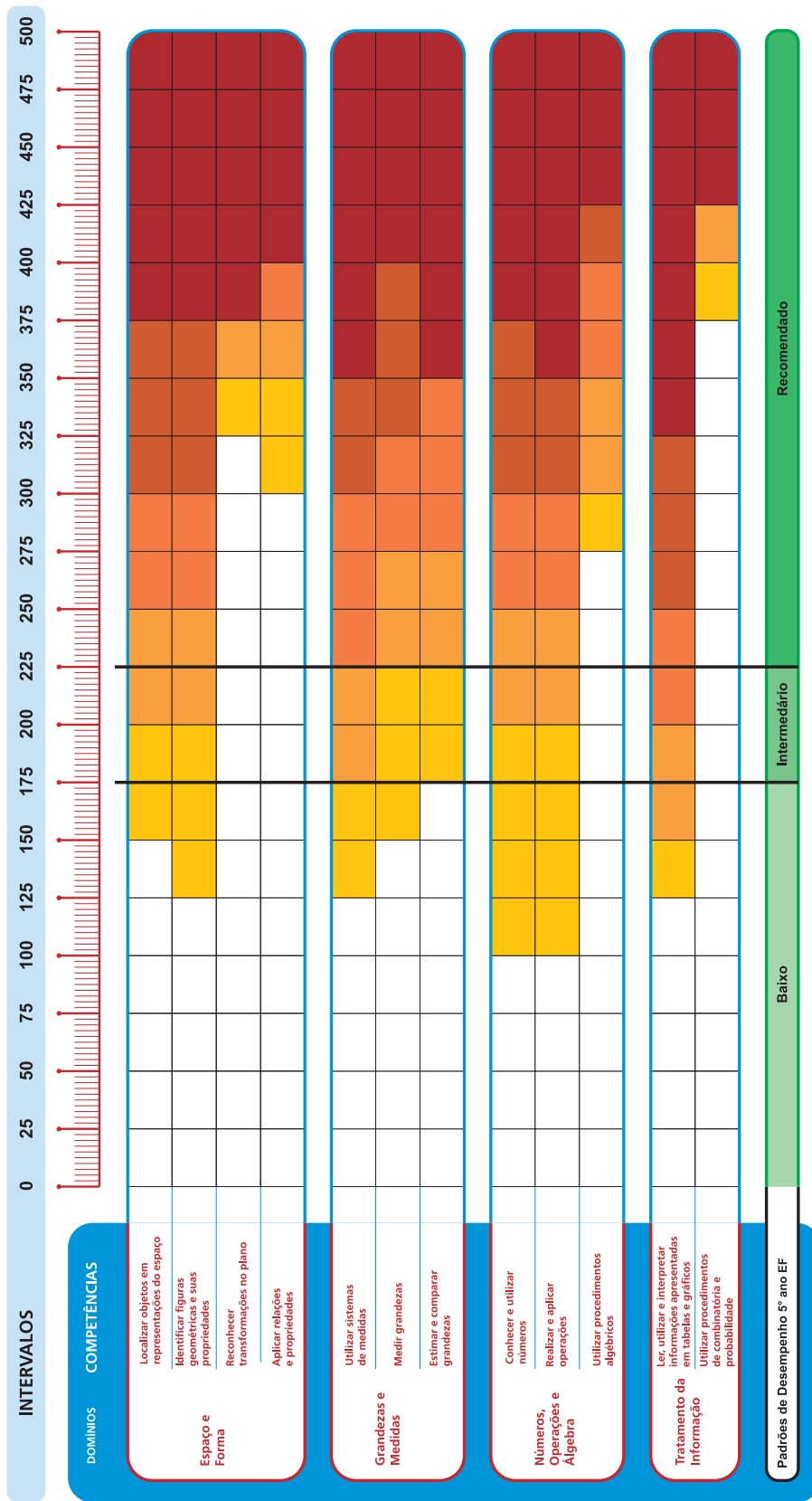
Apresentamos, a seguir, a Escala de Proficiência em Matemática do PROEB. Atente para os domínios, competências e padrões de desempenho da escala.

Eles serão detalhados nas próximas seções.



Educação Básica

Escala de Proficiência em Matemática



Legenda:



A graduação de cores indica a complexidade da competência desenvolvida. Os estudantes cuja proficiência se encontra nos intervalos representados pelos quadros brancos ainda não desenvolveram essa habilidade.

A estrutura da Escala

A Escala de Proficiência em Matemática do PROEB estrutura-se em linhas e colunas, correspondentes às diversas interpretações e leituras possíveis de serem realizadas.

Na primeira coluna são apresentados os grandes domínios do conhecimento em Matemática para toda a educação básica. Cada um desses domínios da escala se divide, na segunda coluna, em competências que, por sua vez, reúnem um conjunto de habilidades. As habilidades, representadas por diferentes cores, que vão do amarelo ao vermelho, estão dispostas nas várias linhas da escala. Essas cores indicam a gradação de complexidade das habilidades, pertinentes a cada competência apresentada na escala. Assim, por exemplo, a cor amarela indica o primeiro nível de complexidade da habilidade, passando pelo laranja e indo até o nível mais complexo, representado pela cor vermelha. A legenda explicativa das cores informa sobre essa gradação na própria escala.

Na primeira linha da Escala, em azul claro, estão divididos todos os intervalos em faixas de 25 pontos, que vão do zero aos 500 pontos. Na última linha, em tons de verde, estão agrupados os padrões de desempenho definidos pela Secretaria de Estado de Educação de Minas Gerais para o 5º ano do Ensino Fundamental. Os limites entre os padrões são negritados e cortam a escala, no sentido vertical, da primeira à última linha.

A relação entre a Escala de Proficiência e a Matriz de Referência

Como você viu, a Escala de Proficiência em Matemática é composta por quatro domínios – Espaço e Forma; Grandezas e Medidas; Números, Operações e Álgebra; Tratamento da Informação – os quais apresentam competências que englobam as habilidades indicadas nos descritores da Matriz de Referência para avaliação.

No quadro, a seguir, você pode ver quais descritores contribuem para a constituição de cada uma das competências da Escala de Proficiência.

DOMÍNIO	COMPETÊNCIAS	DESCRIPTORES
ESPAÇO E FORMA	Localizar objetos em representações do espaço	D01
	Identificar figuras geométricas e suas propriedades	D02, D03, D04
	Reconhecer transformações no plano	D05
	Aplicar relações e propriedades	*
GRANDEZAS E MEDIDAS	Utilizar sistemas de medidas	D7 e D9
	Medir grandezas	D11 e D12
	Estimar e comparar grandezas	D6, D8 e D10
NÚMEROS, OPERAÇÕES E ÁLGEBRA	Conhecer e utilizar números	D13, D14, D15, D20 e D21
	Realizar e aplicar operações	D16, D17, D18, D19, D22, D23, D24, D25, D26, D27 e D28
	Utilizar procedimentos de combinatória e probabilidade	*
TRATAMENTO DA INFORMAÇÃO	Ler, utilizar e interpretar informações apresentadas em tabelas e gráficos	D29 e D30
	Utilizar procedimentos de combinatória e probabilidade	*

* As habilidades relativas a essa competência não são avaliadas nessa etapa de escolarização.

Para extrair o máximo de informações oferecidas pela Escala de Proficiência é preciso interpretá-la.

Essa interpretação pode ser feita de três maneiras:

- ✓ a primeira, pelos domínios e competências, considerando-se a evolução das habilidades ao longo da escala de proficiência;
- ✓ a segunda diz respeito a uma leitura por meio dos padrões de desempenho; e
- ✓ a terceira, observando-se cada um dos intervalos de 25 em 25 pontos da escala.

Essas três possibilidades de leitura e interpretação da escala são muito importantes, pois trazem informações fundamentais para o planejamento pedagógico dos professores, de modo a realizarem intervenções em sala de aula.

A seguir, faremos a primeira interpretação, que enfoca o detalhamento dos níveis de complexidade das habilidades, priorizando a descrição do desenvolvimento cognitivo ao longo do processo de escolarização.



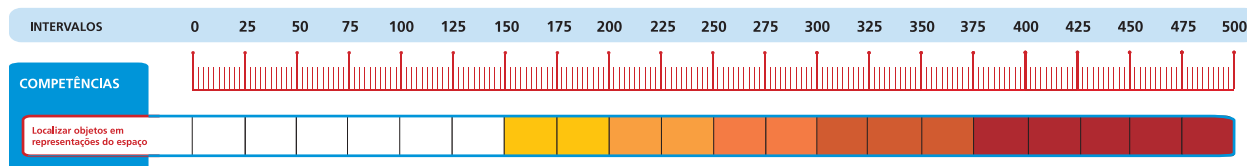
Seção 3

Os Domínios e Competências da Escala de Proficiência

DOMÍNIO: ESPAÇO E FORMA

Professor, na Matemática, o estudo do Espaço e Forma é de fundamental importância para que o aluno desenvolva várias habilidades como percepção, representação, abstração, levantamento e validação de hipóteses, orientação espacial; além de propiciar o desenvolvimento da criatividade. Vivemos num mundo em que, constantemente, necessitamos nos movimentar, localizar objetos, localizar ruas e cidades em mapas, identificar figuras geométricas e suas propriedades para solucionar problemas. O estudo desse domínio pode auxiliar a desenvolver, satisfatoriamente, todas essas habilidades, podendo, também, nos ajudar a apreciar, com outro olhar, as formas geométricas presentes na natureza, nas construções e nas diferentes manifestações artísticas. Nesse domínio, encontram-se duas competências: a localização de objetos em representações do espaço e a identificação de figuras geométricas e suas propriedades. Essas competências são trabalhadas desde a Educação Infantil até o Ensino Médio, permitindo que, a cada ano de escolaridade, os alunos aprofundem e aperfeiçoem o seu conhecimento nesse domínio, desenvolvendo, assim, o pensamento geométrico necessário para solucionar problemas.

COMPETÊNCIA: Localizar objetos em representação do espaço.



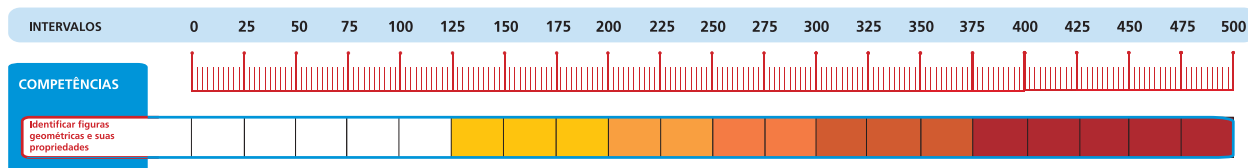
Um dos objetivos do ensino de Espaço e Forma em Matemática é propiciar ao aluno o desenvolvimento da competência de localizar objetos em representações planas do espaço. Essa competência é desenvolvida desde os anos iniciais do Ensino Fundamental por meio de tarefas que exigem dos alunos, por exemplo, desenhar, no papel, o trajeto casa-escola, identificando pontos de referências. Para o desenvolvimento dessa competência, nos anos iniciais do Ensino Fundamental, são utilizados vários recursos, como a localização de ruas, pontos turísticos, casas, dentre outros, em mapas e croquis. Além disso, o uso do papel quadriculado pode auxiliar o aluno a localizar objetos utilizando as unidades de medidas (cm, mm), em conexão com o domínio de Grandezas e Medidas.

☐ Os alunos cuja proficiência se encontra na faixa branca, de 0 até 150 pontos, ainda não desenvolveram as habilidades relacionadas a essa competência.

☐ Os alunos cuja proficiência se encontra no intervalo de 150 a 200 pontos na escala, marcado pelo amarelo-claro, estão no início do desenvolvimento dessa competência. Esses alunos são os que descrevem caminhos desenhados em mapas, identificam objeto localizado dentro/fora, na frente/atrás ou em cima/embaixo.

☐ Os alunos cuja proficiência se encontra no intervalo amarelo-escuro, 200 a 250 pontos na escala, realizam atividades que envolvem referenciais diferentes da própria posição, como, por exemplo, localizar qual o objeto está situado entre outros dois. Também localizam e identificam a movimentação de objetos e pessoas em mapas e croquis.

COMPETÊNCIA: Identificar figuras geométricas e suas propriedades.



Nessa competência, a denominação de “figuras geométricas” será utilizada de forma geral para se referir tanto às figuras bidimensionais como às tridimensionais. Em todos os lugares, nós nos deparamos com diferentes formas geométricas – arredondadas, retilíneas, simétricas, assimétricas, cônicas, esféricas dentre muitas outras. A percepção das formas que estão ao nosso redor é desenvolvida pelos alunos, mesmo antes de entrarem na escola. Nos anos iniciais do Ensino Fundamental, os alunos começam a desenvolver as habilidades de reconhecimento de formas utilizando alguns atributos das figuras planas (um dos elementos que diferencia o quadrado do triângulo é o atributo número de lados) e tridimensionais (conseguem distinguir a forma esférica de outras formas).

□ Os alunos cuja proficiência se encontra na faixa branca, de 0 até 125 pontos, ainda não desenvolveram as habilidades relacionadas a essa competência.

■ No intervalo de 125 a 200 pontos, representado pelo amarelo-claro, os alunos começam a desenvolver a habilidade de associar objetos do cotidiano às suas formas geométricas.

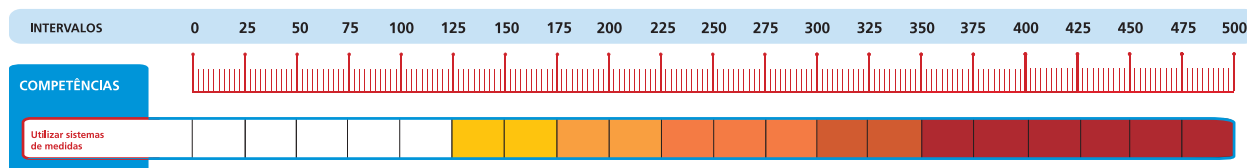
■ No intervalo de 200 a 250 pontos, representado pelo amarelo-escuro, os alunos começam a desenvolver a habilidade de identificar quadriláteros e triângulos, utilizando como atributo o número de lados. Assim, dado um conjunto de figuras, os alunos, pela contagem do número de lados, identificam aquelas que são triângulos e as que são quadriláteros. Em relação aos sólidos, os alunos identificam suas propriedades comuns e suas diferenças, utilizando um dos atributos, nesse caso o número de faces.

■ Os alunos cuja proficiência se encontra entre 250 e 300 pontos, identificam algumas características de quadriláteros relativas a lados e ângulos e, também, reconhecem alguns polígonos, como, por exemplo, pentágonos, hexágonos entre outros, considerando, para isso, o número de lados. Em relação aos quadriláteros, conseguem identificar as posições dos lados, valendo-se do paralelismo. Com relação aos sólidos geométricos, esses alunos identificam os objetos com forma esférica a partir de um conjunto de objetos do cotidiano e reconhecem algumas características dos corpos redondos. A partir das características dos sólidos geométricos, os alunos discriminam entre poliedros e corpos redondos, bem como identificam a planificação do cubo e do bloco retangular. O laranja-claro indica o desenvolvimento dessas habilidades.

DOMÍNIO: GRANDEZAS E MEDIDAS

O estudo de temas vinculados a esse domínio deve propiciar aos alunos conhecer aspectos históricos da construção do conhecimento; compreender o conceito de medidas, os processos de medição e a necessidade de adoção de unidades-padrão de medidas; resolver problemas utilizando as unidades de medidas; estabelecer conexões entre grandezas e medidas com outros temas matemáticos como, por exemplo, os números racionais positivos e suas representações. Através de diversas atividades, é possível mostrar a importância e o acentuado caráter prático das Grandezas e Medidas, para poder, por exemplo, compreender questões relacionadas aos Temas Transversais, além de sua vinculação a outras áreas de conhecimento, como as Ciências Naturais (temperatura, velocidade e outras grandezas) e a Geografia (escalas para mapas, coordenadas geográficas). Essas competências são trabalhadas desde a Educação Infantil até o Ensino Médio, permitindo que, a cada ano de escolaridade, os alunos aprofundem e aperfeiçoem o seu conhecimento nesse domínio.

COMPETÊNCIA: Utilizar sistemas de medidas.



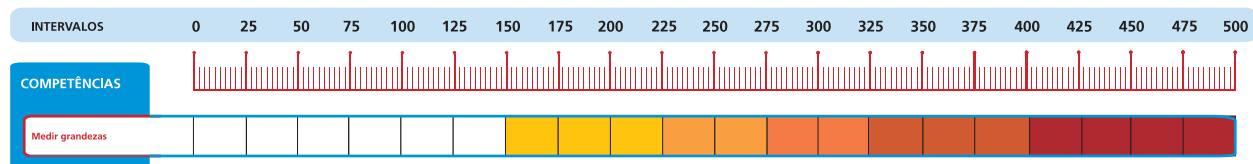
Um dos objetivos do estudo de Grandezas e Medidas é propiciar ao aluno o desenvolvimento da competência: utilizar sistemas de medidas. Para o desenvolvimento dessa competência, nos anos iniciais do Ensino Fundamental, podemos solicitar aos alunos que marquem o tempo por meio de calendário. Destacam-se, também, atividades envolvendo culinária, o que possibilita um rico trabalho, utilizando diferentes unidades de medida, como o tempo de cozimento: horas e minutos e a quantidade dos ingredientes: litro, quilograma, colher, xícara, pitada e outros. Os alunos utilizam também outros sistemas de medidas convencionais para resolver problemas.

□ Os alunos cuja proficiência se encontra na faixa branca, de 0 até 125 pontos, ainda não desenvolveram as habilidades relacionadas a essa competência.

■ No intervalo de 125 a 175 pontos, representado pelo amarelo-claro, os alunos estão no início do desenvolvimento dessa competência. Eles conseguem ler horas inteiras em relógio analógico.

■ No intervalo representado pelo amarelo-escuro, de 175 a 225 pontos, os alunos conseguem ler horas e minutos em relógio digital e de ponteiro em situações simples, resolver problemas relacionando diferentes unidades de uma mesma medida para cálculo de intervalos (dias e semanas, minutos e horas), bem como, estabelecer relações entre diferentes medidas de tempo (horas, dias, semanas), efetuando cálculos. Em relação à grandeza comprimento, os alunos resolvem problemas relacionando metro e centímetro. Quanto à grandeza Sistema Monetário, identificam quantas moedas de um mesmo valor equivalem a uma quantia inteira dada em reais e vice-versa.

■ Os alunos que apresentam uma proficiência entre 225 e 300 pontos, marcado pelo laranja-claro, desenvolvem tarefas mais complexas em relação à grandeza tempo. Esses alunos relacionam diferentes unidades de medidas como, por exemplo, o mês, o bimestre, o ano, bem como estabelecem relações entre segundos e minutos, minutos e horas, dias e anos. Em se tratando da grandeza Sistema Monetário, resolvem problemas de trocas de unidades monetárias, que envolvem um número maior de cédulas e em situações menos familiares. Resolvem problemas realizando cálculo de conversão de medidas das grandezas comprimento (quilômetro/metro), massa (quilograma/grama) e capacidade (litro/mililitro).

COMPETÊNCIA: Medir grandezas.

Outro objetivo do ensino de Grandezas e Medidas é propiciar ao aluno o desenvolvimento da competência: medir grandezas. Essa competência é desenvolvida nos anos iniciais do Ensino Fundamental quando, por exemplo, solicitamos aos alunos para medirem o comprimento e largura da sala de aula usando algum objeto como unidade. Essa é uma habilidade que deve ser amplamente discutida com os alunos, pois, em razão da diferença dos objetos escolhidos como unidade de medida, os resultados encontrados serão diferentes. E perguntas como: “Qual é medida correta?” É respondida da seguinte forma: “Todos os resultados são igualmente corretos, pois eles expressam medidas realizadas com unidades diferentes.” Além dessa habilidade, ainda nas séries iniciais do Ensino Fundamental, também é trabalhada a habilidade de medir a área e o perímetro de figuras planas, a partir das malhas quadriculadas ou não.

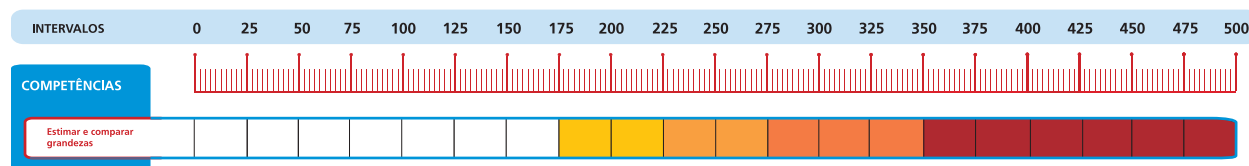
☐ Os alunos cuja proficiência se encontra na faixa branca, de 0 até 150 pontos, ainda não desenvolveram as habilidades relacionadas a essa competência.

☐ No intervalo de 150 a 225 pontos na escala, amarelo-claro, os alunos conseguem resolver problemas de cálculo de área relacionando o número de metros quadrados com a quantidade de quadradinhos contida em um retângulo desenhado em malha quadriculada.

☐ Os alunos cuja proficiência se encontra entre 225 e 275 pontos, representado pelo amarelo-escuro, realizam tarefas mais complexas, comparando e calculando áreas de figuras poligonais em malhas quadriculadas. Em relação ao perímetro, demonstram a habilidade de identificar os lados e, conhecendo suas medidas, calcular a extensão do contorno de uma figura poligonal dada em uma malha quadriculada, bem como calcular o perímetro de figura sem o apoio de malhas quadriculadas.



COMPETÊNCIA: Estimar e comparar grandezas.



O estudo de Grandezas e Medidas tem também como objetivo propiciar ao aluno o desenvolvimento da competência: estimar e comparar grandezas. Muitas atividades cotidianas envolvem essa competência, como comparar tamanhos dos objetos, pesos, volumes, temperaturas diferentes e outras. Nas séries iniciais do Ensino Fundamental, essa competência é trabalhada, por exemplo, quando solicitamos aos alunos que comparem dois objetos estimando as suas medidas e anunciando qual dos dois é maior. Atividades como essas propiciam a compreensão do processo de medição, pois medir significa comparar grandezas de mesma natureza e obter uma medida expressa por um número.

☐ Os alunos cuja proficiência se encontra na faixa branca, de 0 até 175 pontos, ainda não desenvolveram as habilidades relacionadas a essa competência.

☐ Os alunos cuja proficiência se encontra entre 175 e 225 pontos, representado pelo amarelo-claro, estão no início do desenvolvimento dessa competência. Eles leem informações em calendários, localizando o dia de um determinado mês e identificam as notas do Sistema Monetário Brasileiro necessárias para pagar uma compra informada.

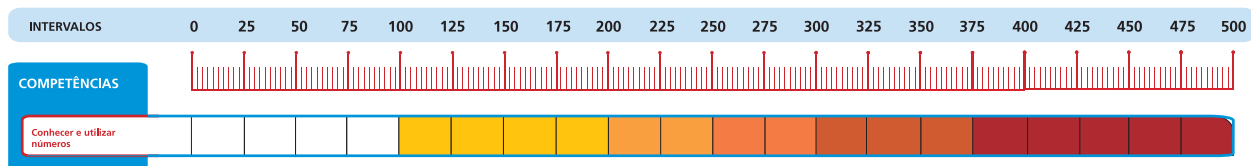
☐ No intervalo de 225 a 275 pontos os alunos conseguem estimar medida de comprimento usando unidades convencionais e não-convencionais. O amarelo-escuro indica o início do desenvolvimento dessa habilidade.

☐ O laranja-claro, 275 a 350 pontos, indica que os alunos com uma proficiência que se encontra nesse intervalo já conseguem realizar tarefas mais complexas relativas a essa competência, como, por exemplo, resolver problemas estimando outras medidas de grandezas utilizando unidades convencionais como o litro.

DOMÍNIO: NÚMEROS, OPERAÇÕES E ÁLGEBRA

Como seria a nossa vida sem os números? Em nosso dia a dia nos deparamos com eles a todo o momento. Várias informações essenciais para a nossa vida social são representadas por números: CPF, RG, conta bancária, senhas, número de telefones, número de nossa residência, preços de produtos, calendário, horas, entre tantas outras. Não é por acaso que Pitágoras, um grande filósofo e matemático grego (580-500 a.C) elegeu como lema para a sua escola filosófica “Tudo é Número”, pois acreditava que o universo era regido pelos números e suas relações e propriedades. Esse domínio envolve, além do conhecimento dos diferentes conjuntos numéricos, as operações e suas aplicações à resolução de problemas. As operações aritméticas estão sempre presentes em nossas vidas. Quantos cálculos temos que fazer? Orçamento do lar, cálculos envolvendo nossa conta bancária, cálculo de juros, porcentagens, divisão de uma conta em um restaurante, dentre outros. Essas são algumas das muitas situações com que nos deparamos em nossas vidas e nas quais precisamos realizar operações.

COMPETÊNCIA: Conhecer e utilizar os números.



As alunos, nos anos iniciais do Ensino Fundamental, têm contato com os números e já podem perceber a importância deles na vida cotidiana. Já conhecem a escrita de alguns números e já realizam contagens. Nessa fase da escolaridade, os alunos começam a conhecer os diferentes conjuntos numéricos e a perceberem a sua utilização em contextos do cotidiano. Entre os conjuntos numéricos estudados estão os naturais e os racionais em sua forma fracionária e decimal. Não podemos nos esquecer de que o domínio de números está sempre relacionado a outros domínios como o das Grandezas e Medidas.

☐ Os alunos cuja proficiência se encontra na faixa branca, de 0 até 100 pontos, ainda não desenvolveram as habilidades relacionadas a essa competência.

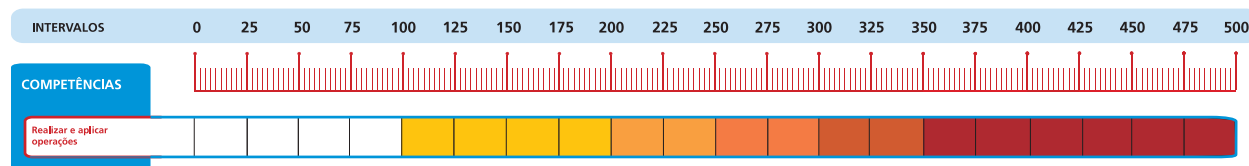
☐ Os alunos que se encontram no intervalo de 100 a 200 pontos, representado pelo amarelo-claro, desenvolveram habilidades básicas relacionadas ao Sistema de Numeração Decimal. Por exemplo, dado um número natural, esses alunos reconhecem o valor posicional dos algarismos, a sua escrita por extenso e a sua composição e decomposição em unidades e dezenas. Eles, também, representam e identificam números naturais na reta numérica. Além disso, reconhecem a representação decimal de medida de comprimento expressas em centímetros e localizam esses números na reta numérica em uma articulação com os conteúdos de Grandezas e Medidas, dentre outros.

☐ O amarelo-escuro, 200 a 250 pontos, indica que os alunos com proficiência nesse intervalo já conseguem elaborar tarefas mais complexas. Eles trabalham com a forma polinomial de um número, realizando composições e decomposições de números de até três algarismos, identificando seus valores relativos. Já em relação aos números racionais, reconhecem a representação de uma fração por meio de representação gráfica.

☐ No laranja-claro, intervalo de 250 a 300 pontos, os alunos percebem que, ao mudar um algarismo de lugar, o número se altera. No que diz respeito a números racionais, eles conseguem transformar uma fração em número decimal e vice-versa. Nesse intervalo, aparecem, também, habilidades relacionadas à porcentagem. Além de estabelecer a correspondência de 50% de um todo à metade, conseguem comparar números racionais na forma decimal, quando eles têm diferentes partes inteiras.

☐ No intervalo de 300 a 375 pontos, marcado pelo laranja-escuro, os alunos desenvolveram habilidades mais complexas relacionadas a frações equivalentes, conseguindo resolver problemas, identificando mais de uma forma de representar numericamente uma mesma fração. Por exemplo, percebem, com apoio de uma figura, que a fração meio é equivalente a dois quartos.

COMPETÊNCIA: Realizar e aplicar operações.



Esta competência refere-se às habilidades de cálculo e à capacidade de resolver problemas que envolvem as quatro operações básicas da aritmética. Envolve, também, o conhecimento dos algoritmos utilizados para o cálculo dessas operações. Além do conhecimento dos algoritmos, essa competência requer a aplicação dos mesmos na resolução de problemas englobando os diferentes conjuntos numéricos, seja em situações específicas da Matemática, seja em contextos do cotidiano.

☐ Os alunos cuja proficiência se encontra na faixa branca, de 0 até 100 pontos, ainda não desenvolveram as habilidades relacionadas a essa competência.

☐ No intervalo representado pelo amarelo-claro, de 100 a 200 pontos, em relação à adição e subtração, os alunos realizam operações envolvendo números de até três algarismos com reserva. Já em relação à multiplicação, realizam operações com reserva, tendo como multiplicador um número com um algarismo. Os alunos resolvem problemas utilizando adição, subtração e multiplicação envolvendo, inclusive, o Sistema Monetário.

☐ Os alunos, cuja proficiência se encontra no intervalo de 200 a 250 pontos, amarelo-escuro, em relação às operações, realizam subtrações mais complexas com quatro algarismos e com reserva. Realizam, também, multiplicações com reserva, com multiplicador de até dois algarismos. Realizam divisões e resolvem problemas envolvendo divisões exatas com divisor de duas ordens. Além disso, resolvem problemas envolvendo duas ou mais operações.

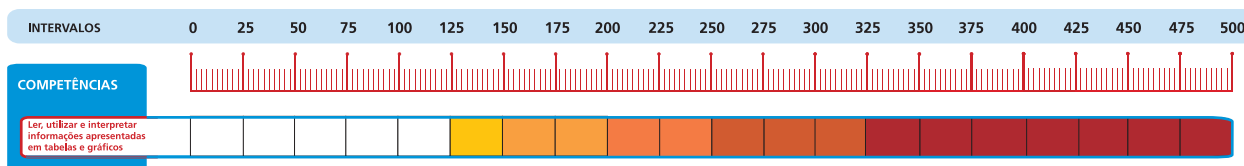
☐ No intervalo representado pelo laranja-claro, de 250 a 300 pontos na Escala de proficiência, os alunos resolvem problemas envolvendo as diferentes ideias relacionadas à multiplicação em situações contextualizadas, além de realizar cálculo de expressões numéricas utilizando parênteses e colchetes com adição e subtração. Também, calculam porcentagens simples (25% e 50%) e resolvem problemas reconhecendo que 50% correspondem à metade.



DOMÍNIO: TRATAMENTO DA INFORMAÇÃO

O estudo de Tratamento da Informação é de fundamental importância nos dias de hoje, tendo em vista a grande quantidade de informações que se apresentam no nosso cotidiano. Na Matemática, alguns conteúdos são extremamente adequados para “tratar a informação”. A Estatística, por exemplo, cuja utilização pelos meios de comunicação tem sido intensa, utiliza-se de gráficos e tabelas. A Combinatória também é utilizada para desenvolver o Tratamento da Informação, pois ela nos permite determinar o número de possibilidades de ocorrência algum acontecimento.

COMPETÊNCIA: Ler, utilizar e interpretar informações apresentadas em tabelas e gráficos.



Um dos objetivos do ensino do conteúdo Tratamento da Informação é propiciar ao aluno o desenvolvimento da competência: ler, utilizar e interpretar informações apresentadas em tabelas e gráficos. Essa competência é desenvolvida nas séries iniciais do Ensino Fundamental por meio de atividades relacionadas aos interesses dos alunos. Por exemplo, ao registrar os resultados de um jogo ou ao anotar resultados de respostas a uma consulta que foi apresentada, eles poderão, utilizando sua própria forma de se expressar, construir representações dos fatos e, pela ação mediadora do professor, essas representações podem ser interpretadas e discutidas. Esses debates propiciam novas oportunidades para a aquisição de outros conhecimentos e para o desenvolvimento de habilidades e de atitudes. Revistas e jornais também auxiliam o professor na tarefa de proporcionar atividades para os alunos lerem, interpretarem e utilizarem as informações.

☐ Os alunos cuja proficiência se encontra na faixa branca, de 0 até 125 pontos, ainda não desenvolveram as habilidades relacionadas a essa competência.

☐ No intervalo representado pelo amarelo-claro, de 125 e 150 pontos, os alunos leem informações em tabelas de coluna única e extraem informações em gráficos de coluna por meio de contagem.

☐ No intervalo representado pelo amarelo-escuro, de 150 a 200 pontos, os alunos leem informações em tabelas de dupla entrada e interpretam dados num gráfico de colunas por meio da leitura de valores no eixo vertical.

☐ No intervalo representado pelo amarelo-escuro, de 200 a 250 pontos na escala, os alunos localizam informações e interpretam dados num gráfico de colunas ou barras por meio da leitura de valores no eixo vertical e realizam a leitura de gráficos de setores.

Na seção seguinte, vamos realizar a segunda interpretação da Escala de Proficiência.

Seção 4

Os Padrões de Desempenho para Matemática

Na segunda forma de interpretação da escala de proficiência, os intervalos da escala são agrupados conforme padrões definidos pela Secretaria de Estado de Educação de Minas Gerais para o PROEB.

Esses padrões são referências importantes para o entendimento do ponto em que sua escola se encontra em relação ao desempenho acadêmico. Assim, na avaliação do 5º ano do Ensino Fundamental de Matemática do PROEB, consideramos três padrões de desempenho. Observe, no quadro a seguir, o detalhamento dos padrões de desempenho e seus respectivos níveis de proficiência.



Padrão de desempenho	Interpretação	Nível de proficiência
Baixo	Os alunos que apresentam esse padrão de desempenho revelam ter desenvolvido competências e habilidades muito aquém do que seria esperado para o período de escolarização em que se encontram, portanto necessitam de uma intervenção focalizada de modo a progredir com sucesso em seu processo de escolarização. Esses alunos, ao final do 5º ano do ensino fundamental, conseguem ler informações em tabela de coluna única; identificar quadriláteros e reconhecer a forma de círculo; resolver problema de cálculo de área com base na contagem das unidades de uma malha quadriculada; calcular adição com números naturais de três algarismos, com reserva e reconhecer o valor posicional dos algarismos em números naturais.	Até 175
Intermediário	Os alunos que apresentam esse padrão de desempenho demonstram já ter começado um processo de sistematização e domínio das habilidades consideradas básicas e essenciais ao período de escolarização em que se encontram, contudo, também para esse grupo de alunos, é importante o investimento de esforços para que possam desenvolver habilidades que envolvam a resolução de problemas com um grau de complexidade um pouco maior. Além das habilidades apresentadas no padrão de desempenho anterior, esses alunos, ao final do 5º ano do ensino fundamental, conseguem identificar a localização ou a movimentação de objeto, tomando como referência a própria posição; ler horas e minutos em relógio digital e calcular intervalos de tempo; decompor um número natural em suas diversas ordens e vice-versa; identificar trocas de moedas em valores monetários pequenos e calcular resultado de subtrações mais complexas com números naturais de quatro algarismos e com reserva.	De 175 a 225
Recomendado	Os alunos que apresentam esse padrão de desempenho demonstram ter ampliado o leque de habilidades tanto no que diz respeito à quantidade quanto no que se refere à complexidade dessas habilidades, as quais exigem um maior refinamento dos processos cognitivos nelas envolvidos. Além das habilidades apresentadas no padrão de desempenho anterior, esses alunos, ao final do 5º ano do ensino fundamental, por exemplo, resolvem problemas envolvendo mais de uma operação; identificam a localização ou movimentação de objeto em representações gráficas, situadas em referencial diferente ao do aluno; localizam números racionais na forma decimal na reta numérica; calculam expressões numéricas (soma e subtração), envolvendo o uso de parênteses e colchete; calculam uma divisão por um número de dois algarismos, inclusive com resto e reconhecem que 50% correspondem à metade.	Acima de 225

Veja, a seguir, na terceira forma de interpretação da Escala de Proficiência, o detalhamento das habilidades presentes nos intervalos de proficiência que constituem cada um dos padrões de desempenho.

A fim de exemplificar quais tarefas os alunos realizam nesses intervalos, apresentamos, também, alguns itens que compuseram o teste de 2010 do PROEB. Esses itens estão alocados nos intervalos de proficiência da Escala de acordo com o comportamento apresentado no teste. A análise pedagógica dos itens compreende, como você verá, o percentual geral de resposta dos alunos para cada alternativa, além de hipóteses mais prováveis sobre estratégias cognitivas das quais os alunos se valeram ao optar por uma dada alternativa. Em cada item, o gabarito encontra-se destacado.

Seção 5

Os Intervalos da Escala de Proficiência

Detalhamento das habilidades presentes nos níveis de proficiência

De 125 até 150 pontos

Baixo


Neste nível, os alunos do 5º ano do Ensino Fundamental, conseguem:

- ✓ Resolver problemas de cálculo de área com base na contagem das unidades de uma malha quadriculada e, apoiados em representações gráficas, reconhecem a quarta parte de um todo.
- ✓ Reconhecer a forma de círculo.
- ✓ Localizar objeto em um referencial de malha quadriculada, a partir de suas coordenadas.
- ✓ Resolver problema com números naturais de até dois algarismos, envolvendo diferentes significados da adição.

O item abaixo avalia a habilidade de o aluno calcular a medida da área de uma figura poligonal plana, desenhada sobre uma malha quadriculada, cujos lados são coincidentes com as linhas da malha.

Item **M050012A9**

(M050012A9) Veja a figura cinza desenhada na malha quadriculada abaixo. A medida da área de cada quadradinho da malha é igual a 1 cm^2 .



Qual é a medida da área dessa figura cinza?

- A) 19 cm^2
- B) 20 cm^2
- C) 28 cm^2
- D) 49 cm^2

% de Resposta	Hipótese
A 76,8%	Os alunos que marcaram a alternativa A demonstraram ter desenvolvido a habilidade avaliada pelo item. Eles efetuaram a contagem dos quadradinhos da cor cinza que formam a figura e encontraram a medida de sua área.
B 16,7%	Os alunos que marcaram a alternativa B calcularam a medida do perímetro dessa figura. Eles não souberam diferenciar os conceitos de área e de perímetro.
C 3,1%	Os alunos que marcaram a alternativa C não se atentaram para o comando de resposta, pois ignoraram a região cinza e calcularam a medida do perímetro do retângulo formado por toda a malha quadriculada, revelando não saber diferenciar os conceitos de área e de perímetro.
B 2,9%	Os alunos que marcaram a alternativa D não se atentaram para o comando de resposta, pois ignoraram a região cinza e calcularam a medida da área do retângulo formado por toda a malha quadriculada.
Brancos e Nulos: 0,5 %	

O item abaixo avalia a habilidade de o aluno resolver situação-problema com números naturais, envolvendo a adição de duas dezenas, com reagrupamentos.

Item **M050274A9**

(M050274A9) Ana pagou uma conta de 27 reais na mercearia e outra de 88 reais no açougue. Quanto Ana pagou, ao todo, por essas contas?

- A) 115 reais.
- B) 113 reais.
- C) 105 reais.
- D) 103 reais.

% de Resposta	Hipótese
A 90%	Os alunos que assinalaram a alternativa A somaram os valores das contas $27 + 88$, encontrando como resultado 115. Esses alunos demonstraram ter desenvolvido a habilidade avaliada pelo item.
B 2,8%	Os alunos que assinalaram a alternativa B erraram no cálculo, pois, ao somar os algarismos das unidades ($7 + 8$), encontraram por resultado 13.
C 5,4%	Os alunos que assinalaram a alternativa C erraram ao não considerar o reagrupamento na ordem das dezenas na aplicação do algoritmo da adição.
D 1,2%	Os alunos que assinalaram a alternativa D erraram no cálculo, pois, ao somar os algarismos das unidades ($7 + 8$), encontraram por resultado 13 e, além disso, erraram ao não considerar o reagrupamento na ordem das dezenas na aplicação do algoritmo da adição.
Brancos e Nulos: 0,6%	

De 150 até 175 pontos

Baixo

Nesse nível, os alunos do 5º ano do Ensino Fundamental, conseguem:

- ✓ Resolver problemas envolvendo adição ou subtração, estabelecendo relação entre diferentes unidades monetárias (representando um mesmo valor ou numa situação de troca, incluindo a representação dos valores por numerais decimais).
- ✓ Calcular adição com números naturais de três algarismos, com reserva.
- ✓ Reconhecer a decomposição de um número considerando o seu valor posicional na base decimal.
- ✓ Reconhecer o valor posicional dos algarismos em números naturais.
- ✓ Localizar números naturais (informados) na reta numérica.
- ✓ Ler informações em tabela de coluna única.
- ✓ Identificar quadriláteros.

O item abaixo avalia a habilidade de o aluno resolver situação-problema envolvendo adição entre números racionais, expressos na forma decimal, significando valores monetários.

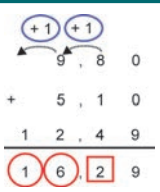
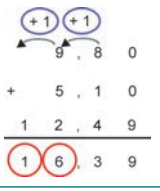
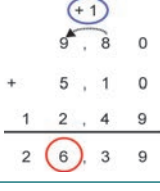
Item **M050516A9**

(M050516A9) Leonardo comprou para o seu filho os três brinquedos representados pelas figuras abaixo.



Quanto Leonardo pagou pelos três brinquedos?

- A) R\$ 16,29
B) R\$ 16,39
C) R\$ 26,39
D) R\$ 27,39

% de Resposta	Hipótese
A 1,8%	Os alunos que assinalaram a alternativa A erraram ao somar os décimos e, além disso, desconsideraram as reservas ao efetuar as operações envolvidas no item. <div>  </div>
B 4,9%	Os alunos que assinalaram a alternativa B erraram por não considerar os reagrupamentos ao somar os preços desses brinquedos, demonstrando falta de domínio do algoritmo da adição. <div>  </div>
C 9,8%	Os alunos que assinalaram a alternativa C apropriaram-se do contexto do problema, mas erraram por não considerar o reagrupamento nas unidades, encontrando, assim, como resultado para essa operação a quantia R\$ 26,39. <div>  </div>
D 82,8%	Os alunos que assinalaram a alternativa D somaram corretamente os preços dos brinquedos, encontrando como resultado total R\$ 27,39, demonstrando ter desenvolvido a habilidade avaliada pelo item.
Brancos e Nulos: 0,7 %	

De 175 até 200 pontos**Intermediário**

Nesse nível, os alunos do 5º ano do Ensino Fundamental, conseguem:

- ✓ Identificar a localização (lateralidade) ou a movimentação de objeto, tomando como referência a própria posição.
- ✓ Identificar a localização de um número natural, representado por um ponto especificado da reta numérica graduada em intervalos unitários.
- ✓ Identificar figuras planas a partir de sua imagem pelos lados e pelo ângulo reto.
- ✓ Identificar a forma ampliada de uma figura simples em uma malha quadriculada.
- ✓ Ler horas e minutos em relógio digital e calcular operações envolvendo intervalos de tempo.
- ✓ Calcular o resultado de uma subtração com números de até quatro algarismos, com reserva.
- ✓ Reconhecer a representação decimal de medida de comprimento (cm) e identificar sua localização na reta numérica.
- ✓ Reconhecer a escrita por extenso de números naturais e a sua composição e decomposição em dezenas e unidades, considerando o seu valor posicional na base decimal.
- ✓ Efetuar multiplicação com reserva, tendo por multiplicador um número com um algarismo.
- ✓ Ler informações em tabelas de dupla entrada.
- ✓ Resolver problemas: relacionando diferentes unidades de uma mesma medida para cálculo de intervalos (dias e semanas, horas e minutos) e de comprimento (m e cm); e envolvendo soma de números naturais ou racionais na forma decimal, constituídos pelo mesmo número de casas decimais e por até três algarismos.
- ✓ Identificar as cédulas que formam uma quantia de dinheiro inteira.
- ✓ Medir o comprimento de um objeto com o auxílio de uma régua.
- ✓ Interpretar um gráfico de colunas, por meio da leitura de valores do eixo vertical.

O item abaixo avalia a habilidade de o aluno resolver problema envolvendo mudança de unidade de medida de tempo, convertendo dias para horas.

Item M050662A9

(M050662A9) Marcelo fez uma viagem de ônibus que durou 5 dias.
Quantas horas durou essa viagem?

- A) 120
- B) 110
- C) 60
- D) 29

% de Resposta	Hipótese
A 76,7%	Os alunos que assinalaram a alternativa A empregaram corretamente a relação 1 dia = 24 horas e efetuaram a conversão fazendo $5 \times 24h = 120h$.
B 7,1%	Os alunos que assinalaram a alternativa B empregaram corretamente a relação 1 dia = 24 horas, mas erraram ao efetuar a conversão, pois, na execução do produto $5 \times 24h$, erraram no reagrupamento, somando nas dezenas 1 unidade ao invés de 2, encontrando, assim, 110 como resultado dessa multiplicação.
C 10,2%	Os alunos que assinalaram a alternativa C empregaram a relação incorreta 1 dia = 12 horas e efetuaram a conversão fazendo $5 \times 12h = 60h$.
D 5,3%	Os alunos que assinalaram a alternativa D demonstraram saber que 1 dia tem 24 horas, mas não atribuíram significado ao contexto e simplesmente somaram 24 com 5, encontrando como resultado 29.
Brancos e Nulos: 0,7%	

O item abaixo avalia a habilidade de o aluno reconhecer a escrita, por extenso, dos numerais envolvendo duas classes decimais.

Item M050288A9

(M050288A9) O recorde de público em um estádio de futebol no Brasil foi de 199 854 pessoas. Esse número corresponde a

- A) cento e noventa e nove mil, oitocentos e cinquenta e quatro.
- B) cento e noventa mil, oitocentos e cinquenta e quatro.
- C) dezenove mil, oitocentos e cinquenta e quatro.
- D) um milhão novecentos e noventa e oito mil e cinquenta e quatro.

% de Resposta	Hipótese
A 82%	Os alunos que assinalaram a alternativa A reconheceram corretamente a escrita por extenso do numeral 199 854, demonstrando ter desenvolvido a habilidade avaliada pelo item.
B 6,1%	Os alunos que assinalaram a alternativa B desconsideraram o valor posicional do algarismo 9 na ordem das unidades de milhar.
C 3,1%	Os alunos que assinalaram a alternativa C desconsideraram o algarismo 9, presente na ordem da unidade de milhar, e, conseqüentemente, passaram a considerar o numeral 19 854.
D 8,1%	Os alunos que assinalaram a alternativa D demonstraram não reconhecer as ordens e as classes numéricas, pois, na prática, consideraram o numeral 1 998 054.
Branco e Nulo: 0,7%	

De 200 até 225 pontos**Intermediário**

Nesse nível, os alunos do 5º ano do Ensino Fundamental, conseguem:

- ✓ Identificar localização ou movimentação de objetos em representações gráficas, com base em referencial diferente da própria posição.
- ✓ Estimar medida de comprimento usando unidades convencionais e não convencionais.
- ✓ Interpretar dados num gráfico de colunas por meio da leitura de valores no eixo vertical.
- ✓ Estabelecer relações entre medidas de tempo (horas, dias, semanas) e efetuar cálculos utilizando as operações a partir delas.
- ✓ Ler horas em relógios de ponteiros, em situação simples.
- ✓ Calcular resultado de subtrações mais complexas com números naturais de quatro algarismos e com reserva.
- ✓ Efetuar multiplicações com números de dois algarismos e divisões exatas por números de um algarismo.
- ✓ Resolver problemas simples envolvendo operações, incluindo Sistema Monetário Brasileiro.
- ✓ Resolver problemas simples de subtração de números decimais com mesmo número de casas decimais.
- ✓ Diferenciar, entre os diversos sólidos, os que têm superfícies arredondadas.
- ✓ Identificar trocas de moedas em valores monetários pequenos.
- ✓ Reconhecer o princípio do valor posicional do sistema de numeração decimal.
- ✓ Decompor um número natural em suas ordens e vice-versa.

O item abaixo avalia a habilidade de o aluno reconhecer o valor posicional de um algarismo em um número com duas classes decimais.

Item **M050369A9**

(M050369A9) Uma cidade tem 76 105 habitantes.

O algarismo 7 ocupa nesse número a ordem da

- A) centena de milhar.
- B) dezena de milhar.
- C) centena simples.
- D) dezena simples.

% de Resposta	Hipótese
A 23,4%	Os alunos que assinalaram a alternativa A não perceberam que o número 76 105 possui a segunda classe incompleta e se atentaram somente para o fato de 7 ser o algarismo mais à direita da segunda classe.
B 65,3%	Os alunos que assinalaram a alternativa B reconheceram que o algarismo 7 ocupa a ordem da dezena de milhar no número 76 105. Esses alunos demonstraram ter desenvolvido a habilidade avaliada pelo item.
C 6,8%	Os alunos que assinalaram a alternativa C não souberam identificar as ordens e classes de um número.
D 3,5%	Os alunos que assinalaram a alternativa D identificaram a posição das dezenas, mas não foram capazes de distinguir as classes.
Branco e Nulo: 1%	

De 225 até 250 pontos**Recomendado**

Nesse nível, os alunos do 5º ano do Ensino Fundamental, conseguem:

- ✓ Identificar números naturais em um intervalo dado e reconhecer a composição/decomposição na escrita decimal em casos mais complexos.
- ✓ Identificar o número natural representado por um ponto especificado da reta numérica graduada em intervalos.
- ✓ Reconhecer a lei de formação de uma sequência de números naturais, com auxílio de representação na reta numérica.
- ✓ Identificar os lados e, conhecendo suas medidas, calcular a extensão do contorno de uma figura poligonal dada em uma malha quadriculada.
- ✓ Identificar propriedades comuns e diferenças entre sólidos geométricos (número de faces).
- ✓ Comparar e calcular áreas de figuras poligonais em malhas quadriculadas.
- ✓ Identificar figuras planas, dentre um conjunto de polígonos, pelo seu número de lados.
- ✓ Resolver uma divisão exata por número de até dois algarismos e uma multiplicação cujos fatores são números de até dois algarismos.
- ✓ Reconhecer a representação numérica de uma fração com o apoio de representação gráfica.
- ✓ Localizar informações em gráficos de colunas duplas.
- ✓ Resolver problemas que envolvem a interpretação de dados apresentados em gráficos de barras ou em tabelas.
- ✓ Ler gráficos de setores.
- ✓ Identificar a localização ou movimentação de objeto em representações gráficas, situadas em referencial diferente ao do aluno.
- ✓ Estimar um comprimento utilizando unidade de medida não convencional.

Resolver problemas:

- ✓ envolvendo conversão de kg para g ou relacionando diferentes unidades de medida de tempo (mês/trimestre/ano);
- ✓ envolvendo o cálculo de intervalo de tempo transcorrido entre dois instantes, dados horas inteiras, sem a necessidade de transformação de unidades;
- ✓ de trocas de unidades monetárias, envolvendo número maior de cédulas e em situações menos familiares;
- ✓ utilizando a multiplicação e reconhecendo que um número não se altera ao multiplicá-lo por um;
- ✓ envolvendo mais de uma operação.

O item abaixo avalia a habilidade de o aluno resolver situação-problema com números naturais envolvendo diferentes significados da multiplicação.

Item **M050229A9**

(M050229A9) Para homenagear seus fregueses a padaria “Pão Fresco” sorteou diariamente 7 cestas de pães durante 18 dias.

Quanto cestas de pães essa padaria sorteou?

- A) 25
- B) 76
- C) 126
- D) 424

% de Resposta	Hipótese
A 19,8%	Os alunos que assinalaram a alternativa A não se apropriaram do contexto do problema. Eles simplesmente somaram os números apresentados no enunciado do item ($7 + 18$) encontrando, como resultado, o número 25.
B 11%	Os alunos que assinalaram a alternativa B compreenderam o conceito de multiplicação envolvido no contexto do problema, mas erraram ao não considerar as cinco dezenas do reagrupamento ao multiplicar 18 por 7, encontrando como resultado o número 76.
C 64,5%	Os alunos que assinalaram a alternativa C demonstraram ter desenvolvido a habilidade avaliada pelo item. Eles calcularam corretamente a multiplicação de 7 por 18, encontrando como resultado o número 126.
D 3,3%	Os alunos que assinalaram a alternativa D apropriaram-se do contexto do problema, mas erraram no algoritmo da multiplicação. Eles erraram ao efetuar nas unidades o produto $7 \times 8 = 54$ e, além disso, somaram primeiro a reserva 5 à dezena 1, obtendo 6 para, em seguida, multiplicar 7 por 6 e encontrar 42 e, dessa forma, chegar ao resultado 424. Esses alunos não apresentaram domínio do algoritmo da multiplicação.
Branco e Nulo: 1,4%	

De 250 até 275 pontos

Recomendado

Nesse nível, os alunos do 5º ano do Ensino Fundamental, conseguem:

- ✓ Calcular expressão numérica (soma e subtração), envolvendo o uso de parênteses e colchetes.
- ✓ Calcular o resultado de uma divisão por um número de dois algarismos, inclusive com o resto.
- ✓ Identificar algumas características de quadriláteros relativas aos lados e ângulos.
- ✓ Identificar planificações de um cubo e de um cilindro dada em situação contextualizada (lata de óleo, por exemplo).
- ✓ Reconhecer alguns polígonos (triângulos, quadriláteros, pentágonos e hexágonos) e círculos.
- ✓ Reconhecer a modificação sofrida no valor de um número, quando um algarismo é alterado, e resolver problemas de composição ou decomposição mais complexos do que nos níveis anteriores.
- ✓ Reconhecer que a medida do perímetro de um polígono em uma malha quadriculada dobra ou se reduz à metade, quando os lados dobram ou são reduzidos à metade.
- ✓ Reconhecer o m^2 como unidade de medida de área.
- ✓ Reconhecer a invariância da diferença em situação-problema.
- ✓ Comparar números racionais na forma decimal, no caso de ter diferentes partes inteiras, e calcular porcentagens simples.
- ✓ Localizar números racionais na forma decimal na reta numérica.
- ✓ Ler horas em relógios de ponteiros em situações mais gerais (8h e 50 min).
- ✓ Reconhecer o gráfico de colunas correspondente a dados apresentados de forma textual.
- ✓ Identificar o gráfico de colunas correspondente a um gráfico de setores.

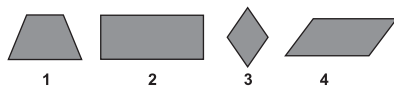
Resolver problemas:

- ✓ de intervalo de tempo que envolve horas e minutos, operando com essas grandezas, inclusive com reserva;
- ✓ realizando cálculo de conversão de medidas: de tempo (dias/anos), de temperatura (identificando sua representação numérica na forma decimal), comprimento (m/km) e de capacidade (mL/L);
- ✓ de soma, envolvendo combinações, e de multiplicação, envolvendo configuração retangular em situações contextualizadas.
- ✓ envolvendo as operações de adição e subtração entre números racionais na forma decimal, representando grandezas monetárias;
- ✓ envolvendo subtração com números naturais de até 3 algarismos com reagrupamento e zero no minuendo.

O item abaixo avalia a habilidade de o aluno identificar um losango dentre quatro quadriláteros (retângulo, trapézio, paralelogramo, losango), considerando os comprimentos e as posições relativas entre seus lados.

Item **M050279A9**

(M050279A9) Veja as figuras abaixo.



O losango é a figura

- A) 1
- B) 2
- C) 3
- D) 4

% de Resposta	Hipótese
A 21,1%	Os alunos que assinalaram a alternativa A confundiram o trapézio com o losango, não reconhecendo as propriedades que diferenciam esses dois quadriláteros.
B 5,3%	Os alunos que assinalaram a alternativa B confundiram o retângulo com o losango, não reconhecendo as propriedades que diferenciam esses dois quadriláteros.
C 53,1%	Os alunos que assinalaram a alternativa C identificaram o losango como um paralelogramo com os quatro lados de mesma medida, demonstrando conhecer as características desse quadrilátero.
D 19,9%	Os alunos que assinalaram a alternativa D confundiram o paralelogramo com um losango, demonstrando desconhecer as propriedades que diferenciam esses dois quadriláteros.
Branco e Nulos: 0,6%	

De 275 até 300 pontos**Recomendado**

Nesse nível, os alunos do 5º ano do Ensino Fundamental, conseguem:

- ✓ Identificar as posições dos lados de quadriláteros (paralelismo).
- ✓ Estabelecer relação entre frações próprias e impróprias e as suas representações na forma decimal, assim como localizá-las na reta numérica.
- ✓ Calcular a medida do contorno (ou perímetro) de uma figura geométrica irregular formada por quadrados justapostos, desenhada em uma malha quadriculada.
- ✓ Identificar poliedros e corpos redondos, relacionando-os às suas planificações.
- ✓ Identificar fração como parte de um todo, sem apoio da figura.
- ✓ Resolver problemas que envolvem proporcionalidade requerendo mais de uma operação e reconhecer que 50% corresponde à metade.
- ✓ Resolver problemas de situações de troco, envolvendo um maior número de informações e operações.
- ✓ Reconhecer diferentes planificações de um cubo.

Resolver problemas:

- ✓ utilizando multiplicação e divisão, em situação combinatória;
- ✓ de soma e subtração de números racionais (decimais) na forma do sistema monetário brasileiro, em situações complexas;
- ✓ estimando medidas de grandezas, utilizando unidades convencionais (L);
- ✓ simples de contagem, envolvendo o princípio multiplicativo;
- ✓ envolvendo as operações de adição e subtração com reagrupamento de números racionais dado em sua forma decimal.

O item abaixo avalia a habilidade de o aluno resolver situação-problema com números racionais na forma decimal envolvendo o sistema monetário brasileiro em situação de troco.

Item **M050566A9**

(M050566A9) Joana comprou dois colares iguais ao da figura abaixo e pagou com uma nota de R\$ 50,00.



Quanto ela deverá receber de troco?

- A) R\$ 28,10
- B) R\$ 29,10
- C) R\$ 30,20
- D) R\$ 39,05

% de Resposta	Hipótese
A 41,8%	Os alunos que assinalaram a alternativa A demonstraram ter desenvolvido a habilidade avaliada pelo item. Eles calcularam o total pago pelos colares, fazendo $2 \times 10,95 = 21,90$ para, em seguida, calcular $50 - 21,90 = 28,10$, que representa o troco, em reais, a ser recebido por Joana.
B 10,5%	Os alunos que assinalaram a alternativa B calcularam o total pago pelos colares, fazendo $2 \times 10,95 = 21,90$, mas erraram ao calcular o troco a ser recebido por Joana, pois, ao subtrair $50 - 21,90$, desconsideraram a reserva na ordem das dezenas.
C 11,6%	Os alunos que assinalaram a alternativa C erraram ao calcular o total pago pelos colares, fazendo $2 \times 10,95 = 20,80$, desconsiderando todos os reagrupamentos e, em seguida, erraram novamente ao efetuar a diferença $50 - 20,80$, pois ignoraram as reservas.
D 35,2%	Os alunos que assinalaram a alternativa D não se apropriaram do contexto do problema. Eles descontaram dos 50 reais apenas o valor de um colar, encontrando como resultado 39,05.
Branco e Nulo: 0,9%	

Acima de 300 pontos

Recomendado


Nesse nível, os alunos do 5º ano do Ensino Fundamental, conseguem:

- ✓ Identificar a localização (requerendo o uso das definições relacionadas ao conceito de lateralidade) de um objeto, tendo por referência pontos com posição oposta à sua e envolvendo combinações.
- ✓ Realizar conversão e soma de medidas de comprimento e massa (m/km e g/kg).
- ✓ Identificar mais de uma forma de representar numericamente uma mesma fração e reconhecer frações equivalentes.
- ✓ Identificar um número natural (não informado), relacionando-o a uma demarcação na reta numérica.
- ✓ Reconhecer o significado da palavra perímetro.
- ✓ Efetuar operações com horas e minutos, fazendo a redução de minutos em horas.
- ✓ Reconhecer um quadrado fora da posição usual.
- ✓ Identificar elementos de figuras tridimensionais.
- ✓ Identificar fração irredutível como parte de um todo sem apoio de figura.

O item abaixo avalia a habilidade de o aluno resolver problema envolvendo o cálculo da medida do perímetro de uma figura poligonal plana, desenhada sobre uma malha quadriculada.

Item **M050467A9**

(M050467A9) Veja a figura representada pela cor cinza na malha quadriculada abaixo. Cada quadradinho da malha tem 3 centímetros de lado.



Qual é a medida do perímetro dessa figura desenhada?

- A) 28 centímetros.
- B) 56 centímetros.
- C) 72 centímetros.
- D) 84 centímetros.

% de Resposta	Hipótese
A 39,6%	Os alunos que assinalaram a alternativa A identificaram corretamente o perímetro da figura ao contar o número de segmentos da malha que compõem o seu contorno, mas ao invés de considerar o lado de cada quadradinho da malha com medida 3 cm, consideraram essa medida como sendo igual a 1 cm.
B 9%	Os alunos que assinalaram a alternativa B identificaram corretamente o perímetro da figura ao contar o número de segmentos da malha que compõem o seu contorno, mas ao invés de considerar o lado de cada quadradinho da malha com medida 3 cm, consideraram essa medida como sendo igual a 2 cm.
C 11,9%	Os alunos que assinalaram a alternativa C erraram a contagem do número de segmentos que formam o contorno da figura, pois concluíram ser 24 segmentos e, em seguida, multiplicaram essa quantidade por 3 cm e concluíram que o perímetro mediria 72 cm.
D 38,4%	Os alunos que assinalaram a alternativa D demonstraram ter desenvolvido a habilidade avaliada pelo item. Eles identificaram corretamente o perímetro da figura, pois contaram o número de segmentos da malha que compõem o seu contorno, obtendo 28 segmentos e, em seguida, consideraram o comprimento de cada quadradinho da malha como sendo 3 cm. Eles multiplicaram 3×28 e obtiveram 84 cm para o perímetro da figura.
Branco e Nulo: 1,1%	

Seção 6

Atividades para Apropriação dos Resultados

A seguir, você encontrará algumas propostas de atividades a serem desenvolvidas com a equipe pedagógica da escola. Esta será uma interessante oportunidade para pensar coletivamente ações pedagógicas que visem à melhoria do processo de ensino e de aprendizagem e, consequentemente, à elevação dos indicadores educacionais da escola.

O que esperamos deste momento de discussão dos resultados é a criação de uma rede de responsabilização da qual fazem parte a direção, os professores, os coordenadores pedagógicos, os alunos e seus familiares. O intuito da criação dessa rede integrada é conectar esses atores em fortes elos de solidariedade, coparticipação, comprometimento e atitude positiva frente aos desafios de transformar, para melhor, o processo educativo da escola. Isso equivale a dizer que, para os resultados da Edição 2010 do PROEB se tornarem efetivamente um instrumento de melhoria da eficácia escolar, o sucesso das ações a serem desenvolvidas na escola dependerá muito mais da interação estabelecida entre todos os envolvidos

no processo de ensino e de aprendizagem, do que da simples soma de seus esforços isolados, ainda que estes sejam grandes.

Daí depreende-se a importância de um espaço institucional criado com o objetivo de facilitar a divulgação e apropriação dos resultados da avaliação do PROEB, tornando essa ação uma importante aliada na busca por um sistema educativo capaz de promover justiça e inclusão social.

Para que esse ideário transponha o mero discurso e efetivamente se concretize, é preciso, em primeiro lugar, que você e todos de sua escola acreditem que isso é possível.

Esperamos que as atividades para apropriação de resultados contribuam para o estabelecimento de uma cultura permanente de debate, reflexão e utilização dos resultados do PROEB para o planejamento coletivo da escola.



Atividade 1

Análise dos resultados de proficiências médias e de participação dos alunos

Objetivo	Analisar os resultados de proficiência média e de participação do PROEB 2010.
Material(ais) necessário(s)	Folhas de papel ofício e material para anotação, boletins de Matemática com os resultados da sua escola.
Pontos-Chave	Deverá ficar claro para o participante que as proficiências médias expressas nos boletins são medidas de tendência central, ou seja, elas representam, por meio de um valor único, ou central, o conjunto das proficiências alcançadas nos testes por todos os alunos.

Realização: Forme grupos com no máximo cinco pessoas e distribua os resultados de Matemática da sua escola. Em seguida, discuta os resultados com base nas seguintes questões norteadoras:

Compare a proficiência média da nossa escola com as outras médias apresentadas.

Como você interpreta a posição de nossa escola? E a participação?

De que forma você acha que a participação pode interferir nos resultados de nossa escola?

Deixe que os grupos respondam livremente, expondo suas opiniões. Depois desse debate inicial, você poderá passar à fase seguinte, com a sistematização das respostas:

- ✓ Peça aos participantes de cada grupo que anotem, em tópicos, os principais pontos da discussão.
- ✓ Depois de decorrido o debate interno, reagrupe os participantes de modo que se forme a metade de grupos anteriormente formados. Por exemplo, se no início havia seis grupos com quatro pessoas, nessa etapa deverão ser formados três grupos com oito pessoas cada grupo.
- ✓ Os novos grupos formados deverão comparar suas respostas anteriores para o estabelecimento de um consenso e elaborar uma resposta final.
- ✓ Peça que os participantes elejam um representante de cada grupo, o qual deverá apresentar as conclusões para todos.

Você pode encerrar essa atividade destacando os pontos mais interessantes nas respostas dos grupos e pode, inclusive, anotá-los no quadro.

Atividade 2

Análise dos resultados da evolução do desempenho e do percentual de alunos em cada nível e padrão da escala de proficiência em Matemática

Objetivo	Analisar a evolução dos resultados entre as diferentes edições do PROEB e o percentual de alunos em cada nível e padrão de desempenho.
Material(ais) necessário(s)	Folhas de papel ofício e material para anotação, boletins de Matemática com os resultados da sua escola. Pequenos cartazes com os dizeres: Baixo, Intermediário e Recomendado.
Pontos-Chave	O importante nessa atividade é o entendimento de que, apesar da proficiência média ser uma importante medida representativa da escola, a distribuição dos alunos pelos diferentes níveis e padrões da escala permite um grau mais refinado na interpretação dos resultados. Pelos gráficos de distribuição é possível, portanto, identificar o percentual de alunos que precisam de atenção focalizada por parte da escola. A evolução dos resultados da escola ao longo das edições do PROEB permite compreender, por sua vez, o desempenho dos alunos nas últimas avaliações.

Realização: A primeira parte dessa dinâmica segue o mesmo formato da anterior, modificando-se apenas o conteúdo do debate. Forme grupos com, no máximo, cinco pessoas e distribua os resultados de Matemática da sua escola. Em seguida discuta com os participantes sobre os resultados com base nas seguintes questões norteadoras:

Nos gráficos da evolução do desempenho, qual o comportamento dos resultados para as últimas edições do PROEB no estado, na SRE e em nossa escola? O percentual de alunos nos padrões mais baixos da escala tem diminuído ou aumentado nas últimas avaliações? À quais fatores você credita esse comportamento?

Deixe que os grupos respondam livremente, expondo suas opiniões. Depois desse debate inicial, você poderá passar à fase seguinte, com a sistematização das respostas.

- ✓ Peça aos participantes de cada grupo que anotem, em tópicos, os principais pontos da discussão interna.
- ✓ Depois de decorrido o debate interno, reagrpe os participantes de modo que se forme a metade de grupos anteriormente formados. Por exemplo, se no início havia seis grupos com quatro pessoas, nessa etapa deverão ser formados três grupos com oito pessoas cada grupo.
- ✓ Os novos grupos formados deverão comparar suas respostas anteriores para o estabelecimento de um consenso e elaborar uma resposta final.
- ✓ Peça que os participantes elejam um representante de cada grupo, o qual deverá apresentar as conclusões para todos.

Você pode encerrar essa atividade destacando os pontos mais interessantes nas respostas dos grupos e pode, inclusive, anotá-los no quadro.

Depois de transcorrido o debate anterior, você pode iniciar a segunda parte dessa atividade. Para tanto, divida os participantes em três grupos. Para cada grupo você deverá entregar um cartaz com o padrão de desempenho. Assim, por exemplo, para o grupo I você poderá entregar o cartaz *Baixo*, para o grupo II o cartaz *Intermediário* e assim sucessivamente até o grupo III com o cartaz onde se lê *Recomendado*.

Depois que cada grupo recebeu o seu cartaz, peça para os participantes informarem o percentual de alunos da escola em cada padrão de desempenho. Feito isso, as discussões podem ter por centro as seguintes diretrizes:

Agora que vocês identificaram o percentual de alunos em cada padrão, quais as características de desempenho em Matemática que os alunos de cada grupo apresentam?

Essas características estão no Quadro dos Padrões de Desempenho, neste boletim. Os participantes deverão fazer a interpretação das características de desempenho correspondentes ao cartaz do seu grupo, ou seja, quem está no grupo *Intermediário*, por exemplo, deverá interpretar o que entendeu das características de desempenho referentes a esse padrão. Depois que cada grupo apresentar as suas características de desempenho, você poderá questioná-los nos seguintes pontos:

Qual é o percentual de alunos da escola que pode estar correndo risco de evasão? Por que isso está acontecendo em nossa escola? Quais ações podem ser implementadas para redução do percentual de alunos nos padrões de baixo desempenho?

Peça para cada grupo apresentar sua resposta. Todos deverão participar e apresentar uma resposta final, consensual. Por último, para encerrar essa atividade, você poderá perguntar aos participantes:

Os alunos que estão nos diferentes níveis de desempenho da escala de proficiência são capazes de realizar quais tarefas?

A resposta a essa questão requer a apresentação dos itens de proficiência que estão neste boletim. Peça, então, para os grupos apresentarem os itens correspondentes aos padrões de desempenho de cada grupo. Ou seja, os participantes do grupo *Recomendado*, por exemplo, deverão apresentar alguns itens representativos dos intervalos constituintes desse padrão. Atente ao percentual de respostas para cada alternativa demonstrado pelos alunos de nosso estado. Levante, juntamente com os grupos, outras possíveis hipóteses cognitivas para as alternativas dos itens.

Atividade 3

Interpretação pedagógica dos resultados por meio da escala de proficiência em Matemática

Objetivo	Interpretar, de forma pedagógica, os resultados da escola com base na escala de proficiência em Matemática.
Material(ais) necessário(s)	Boletins de Matemática com os resultados da sua escola. Cópias das escalas de proficiência para esta dinâmica, que estão disponíveis no Portal da avaliação, acessível através do site www.simave.caedufjf.net .
Pontos-Chave	Para os participantes deverá ficar claro que cada um dos domínios da escala se divide em competências que, por sua vez, reúnem um conjunto de habilidades, que são apresentadas por meio dos descritores da Matriz de Referência. As cores presentes na escala de proficiência, que vão do amarelo claro ao vermelho, representam a gradação de complexidade das habilidades desenvolvidas, pertinentes a cada competência. O entendimento da gradação das cores é fundamental para proceder à interpretação pedagógica dos resultados da escola.

Realização: Forme grupos com, no máximo, quatro pessoas para essa atividade. Depois da formação dos grupos, distribua as cópias com a escala de proficiência em Matemática para cada grupo. Em seguida informe sobre as seguintes tarefas que os grupos deverão realizar:

- ✓ Peça para traçarem uma reta vertical na escala exatamente no ponto referente à proficiência média da escola.
- ✓ Depois de traçar essa reta, os participantes deverão colocar, na primeira linha da escala, no espaço correspondente, o percentual de alunos para cada nível. Da mesma forma, na última linha da escala, os participantes deverão preencher com o percentual de alunos para cada padrão de desempenho.

Feito isso, você poderá direcionar os debates entre os grupos com os questionamentos:

Vocês viram que na escala de proficiência existem diferentes cores. O que isso quer dizer? Quais habilidades os alunos do 5º ano do Ensino Fundamental, que estão no padrão de desempenho Intermediário para Matemática, demonstram ter? Qual é o percentual de alunos nos intervalos anteriores ao padrão de desempenho Recomendado? Quais práticas pedagógicas podemos implementar em sala de aula para o desenvolvimento de habilidades nesses grupos de alunos?

Deixe que os grupos debatam o suficiente para compor as respostas. As análises que os grupos farão devem ter por base os Domínios e Competências da Escala, apresentados neste boletim. Os participantes devem discutir, em especial, as habilidades ainda não desenvolvidas pelos seus alunos.

Depois da exposição das respostas, ao realizar o fechamento dessa atividade, você poderá chamar a atenção para o fato de que a escala apresenta o desenvolvimento do aluno de forma contínua e cumulativa ao longo de seu processo de escolarização, ou seja, as habilidades ali expressas vão se tornando cada vez mais complexas a medida que o aluno avança nas etapas de escolaridade.

Encerradas as atividades propostas, você poderá estruturar formas para o acompanhamento e monitoramento das ações voltadas para a melhoria do desempenho escolar. Essa atitude é muito importante para consolidar a proposta das atividades em sua escola.

Agora é com você

Você conheceu, neste Boletim, o desempenho de sua escola nos testes de proficiência da edição de 2010 do PROEB, comparou dados, interpretou de forma pedagógica a escala de proficiência. De posse deste material, você já tem os indicadores do que está indo bem e o que ainda precisa (e pode) ser melhorado na sala de aula e na escola. Você e toda a sua comunidade escolar têm, agora, dados concretos sobre o desenvolvimento das habilidades e competências básicas dos alunos avaliados. É hora, pois, de utilizar esse conhecimento em prol da melhoria da educação ofertada em sua escola.

Nos aspectos em que os alunos foram bem sucedidos, você pode manter e até intensificar as suas práticas. Por outro lado, não desanime se os resultados não foram satisfatórios. Eles poderão ser melhorados. Temos certeza de que você e todos da escola estão preocupados e desenvolverão estratégias para reverter essa situação.

A coleção PROEB 2010 que a escola está recebendo não pode ficar guardada na estante ou na gaveta. Ela deverá nortear a discussão das reuniões na escola (equipe gestora, professores, comunidade) e nos encontros de formação continuada. A partir das informações trazidas por essas publicações, será possível repensar o planejamento da escola e implementar práticas pedagógicas e de gestão alinhadas com o anseio de consolidar uma escola de qualidade em Minas Gerais.

Acreditamos que os dados do PROEB podem contribuir para uma prática reflexiva capaz de transformar a escola em uma instância na qual a equidade seja, efetivamente, um instrumento de promoção dos alunos.



